

Boreftse Dorpskwis

Georganiseerd door KPJ Bodegraven

Antwoorden 2022

Teamnaam:

Teamnummer:

Vraag 3.3: stuks

Inlevertijd: : uur

Aantal personen uitslagavond 29 april:



Voorwoord

Met trots presenteert de organisatie het kwisboek van de tweede editie van de Boreftse Dorpskwis!

Lees voordat jullie beginnen, de speluitleg goed door.
We wensen jullie een leuke en gezellige avond toe!

We zien jullie graag op de uitslagavond op vrijdagavond 29 april 2022 om 19:30 uur in het Evertshuis. Tijdens deze avond wordt de winnaar van de Boreftse Dorpskwis 2022 bekend gemaakt!

Veel succes en vooral veel plezier!

De organisatie,
Joëlle Dorresteyn
Joyce Pauelse
Marinka Rijlaarsdam
Simone Rijlaarsdam
Dave Sloof
Anne Vergeer
Bart Vreeling
Mirjam Zegers

dorpskwis@kpj.nl



Speluitleg

De organisatie heeft een kwisboek vol vragen en opdrachten samengesteld. Op vrijdagavond 8 april 2022 wordt het kwisboek om exact 19:30 uur overhandigd aan de teamcaptains in de Willibrordschool. De teamcaptain vertrekt hierna naar zijn/haar thuisbasis om met het team te beginnen aan de vragen en opdrachten.

Tijdens de kwis mogen alle mogelijke hulplijnen worden ingeschakeld. Om uiterlijk 23:30 uur, dezelfde avond, levert de teamcaptain het ingevulde kwisboek in bij de organisatie in de Willibrordschool.

De organisatie zal de antwoorden van alle (op tijd ingeleverde) kwisboeken controleren. De winnaar zal bekend worden gemaakt tijdens de uitslagavond op vrijdagavond 29 april 2022 vanaf 19:30 uur in het Evertshuis. Het team met de meeste punten wordt de winnaar van de Boreftse Dorpskwis! Over de uitslag kan niet gecorrespondeerd worden.

De inschrijfkosten bedragen €35 per team. De opbrengsten worden geschonken aan Verpleeghuis Vijverhof.

Graag willen we jullie wijzen op de volgende punten:

1. Wij geven geen punten aan niet of slecht leesbare antwoorden.
2. Omcirkel bij meerkeuzevragen het goede antwoord.
3. Zorg dat de bladzijden van de ingeleverde boeken in de juiste volgorde gezet worden.
4. Er zijn 11 thema's: Succesvolle Sponsors, In het Wilde Weg, Het mooie Boreft, KPJ & Dorpskwiscie, Sportieve taferelen, Vivi la musica, Beeldbuis, Kwissers klaar: puzzelen maar, (Oude) Beruchte Boreftse Berichten, Back to School en Bloemetjes & Bijtjes.
5. De te behalen punten zijn per opdracht of vraag genoteerd.
6. Voor enkele opdrachten moet je op pad in Bodegraven. Gebruik hiervoor de fiets en wees voorzichtig op straat!
7. Deelname aan de Boreftse Dorpskwis is op eigen risico. Wij vragen jullie om verkeersregels en fatsoensnormen op te volgen.
8. Na de uitslagavond zullen de antwoorden op www.boreftsedorpskwis.nl geplaatst worden.
9. Indien meerdere teams een gelijk puntenaantal behalen, dan is de inlevertijd leidend.
10. Indien iemand bezwaar heeft tegen het gebruik van foto's voor promotiedoeleinden, dan kan dit schriftelijk bij de organisatie kenbaar gemaakt worden.

Wat valt er nou eigenlijk te winnen?

Boreftse Dorpskwis

1

Boreftse Dorpskwis

2

Boreftse Dorpskwis

3

€ 150,-
BOV kadobonnen
+
2x waardebon voor
8 personen BBQ pakket
van Slagerij Rietveld!

LAGAsidi

€ 250,-
BOV kadobonnen
+
voor 20 personen
Lasergamen!

€ 100,-
BOV kadobonnen
+
2 Hubo kluspakketten!

MVC TOOLS
TY-01N
Hubo kluspakketten

1. Succesvolle Sponsors

De Boreftse Dorpskwis wordt mede mogelijk gemaakt door sponsors. Deze categorie bestaat uit vragen die zijn opgesteld in overleg met onze sponsors.

Vraag 1:

Rijnhoek Plaza Bodegraven is een overdekt winkelcentrum waar je alles vindt voor in en om het huis. Hoeveel vierkante meter winkelplezier vindt je bij Rijnhoek Plaza Bodegraven onder één dak (foutmarge 500 m²)? (2 punten)

Antwoord **8000 m²**.....

Vraag 2:

Hubo Bodegraven is de landelijke keten van doe-het-zelfzaken. Wat is de slogan van Hubo? (2 punten)

Antwoord **#Hubohelpt**.....

Vraag 3:

Freek Hypotheek zorgt voor je hypotheek, in iedere fase van je leven. Wat was vroeger de functie van het donkere gedeelte van het bedrijfspand aan de Julianastraat 50? (2 punten)

Antwoord **Kaaspakhuis**.....

Vraag 4:

Dierenartsenpraktijk Bodegraven is een kliniek voor paarden en gezelschapsdieren in het Groene Hart van Zuid-Holland. Dierenartsenpraktijk Bodegraven heeft een gebouw voor de paarden

en sinds kort een ander gebouw voor de gezelschapsdieren. Naar welk bekend gebouw op de Zuidzijde is de gezelschapsdieren afdeling verhuisd? (2 punten)

Antwoord **de Vliethoeve**.....

Vraag 5:

Unizon biedt voor iedere woning passende en op maat gemaakte zonwering oplossingen. Zo verkoopt Unizon ook rolluiken. Waarom zorgen deze ervoor dat er minder snel wordt ingebroken? (2 punten)

A. Rolluiken geven een elektrische schok

B. Inbrekers zien niet je kostbaarheden, het forceren kost veel tijd en maakt lawaai

C. Inbrekers verwachten niks te kunnen halen bij een huis met rolluiken

Vraag 6: RDG ontwerp & advies kan het bouwkundige ontwerp, tekenwerk, bouwbegeleiding en bouwadvies verzorgen. Waar komt de afkorting RDG vandaan? (2 punten)

Antwoord **Rob de Groot**.....

Vraag 7:

Bizway is een allround ICT-bedrijf, levert al bijna 20 jaar hosting-oplossingen en heeft altijd passende oplossingen voor complexe cyberbedreigingen. Voor welke partijen werkt Bizway? (2 punten)

- A. Tinq, Ministeries, GGD en Hof van Twente
- B. De Willibrorduskerk, KPJ Bodegraven en het Kaasmuseum Bodegraven
- C. Boreftse dorpskwis, Ministeries, Tinq & CBR

Vraag 8:

APK, winterbanden, ruitschade of reparaties. Voor dit en meer kun je terecht bij Autoservice Gijs van Dam: Waarin onderscheidt Autoservice van Dam zich van andere autobedrijven? (2 punten)

- A. Software updates
- B. Inleren en leveren van autosleutels
- C. Chiptuning
- D. Onderhoud aan jonge (elektrische) auto's, ook als ze nog in de garantie zitten

E. Alle bovengenoemde opties

Vraag 9:

V.D. Gugten Porsche Service heeft meer dan 40 jaar ervaring met Porsche. V.D. Gugten Porsche Service is momenteel gevestigd op de Botter. Op welk adres waren zij hiervoor gehuisvest? (2 punten)

Antwoord **Griekenlandweg 2**

Vraag 10:

Licht of geluid nodig? Dan ben je bij Jel-Light aan het juiste adres! Waar laat Jel-light o.a. zijn lichten schijnen? (2 punten)

- A. Hotelketen Fletcher
- B. Raadhuisplein
- C. Burgemeester van Dobben-de Bruijnstraat

Vraag 11:

Lagasidi is een Bodegraafs verhuurbedrijf voor urenlang plezier in eigen omgeving tegen een scherpe prijs. De naam van deze sponsor is een afkorting, waar staat Lagasidi voor? (2 punten)

Antwoord **Lasergame Silent Disco**

Vraag 12:

Kaasboerderij de Graaf wordt sinds 1928 met veel plezier en passie gerund door familie de Graaf. Hoeveel koeien staan er op de muurschildering bij de boerderijautomaat van Kaasboerderij de Graaf? (2 punten)

Antwoord **6**

Vraag 13:

Slagerij Rietveld biedt een ruime keuze aan (h)eerlijke producten. Slagerij Rietveld heeft voor het barbecueseizoen een mooi barbecuepakket voor jullie samengesteld. Wat zit er per persoon in het beroemde barbecuepakket van Slagerij Rietveld? (2 punten)

Antwoord **1 filetlapje, 1 hamburger, 1 shaslick, 1 worstje, 2 varkens satéstokjes**

Vraag 14:

Mulder Betonbouw B.V. is specialist in hoogbouw, funderingen, kelders, grond-, weg- en waterbouw. Mulder Betonbouw B.V. heeft gewerkt aan de vernieuwing van het kofferdistributiesysteem van Schiphol. Hoeveel m2 aan kelders hebben zij gerealiseerd? (2 punten)

A. 45.000

B. 32.000

C. 53.000

Vraag 15:

Star Reklame is een veelzijdig grafisch ontwerp bureau, zij bieden een totaaloplossing voor al jouw grafische vraagstukken. Inmiddels bestaat Star Reklame al heel wat jaar, maar... hoeveel jaar? (2 punten)

Antwoord **45 jaar of sinds 1977**

Vraag 16:

Team Zo Vader Zo Zoon treedt vaak op in een pak met daar op een herkenbare print. Welke print staat er op de jasjes van de mannen? (2 punten)

Antwoord **Testbeeld**



Zo Vader, Zo Zoon

Drive-inn shows Licht Geluid



2. In het wilde weg

Vraag 1:

Hieronder zie je het schilderij 'Meisje met de parel' van Johannes Vermeer. Verkleed een van jullie teamleden zo goed mogelijk als het meisje van het schilderij en maak hier een foto van. Stuur deze foto naar dorpskwis@kpj.nl voor 23:30 uur, vermeld hierbij je teamnaam + vraagnummer (2.1). Er wordt gelet op compositie, kleding en kleur. (10 punten)



Vraag 2:

In de Willibrordschool start om 20:15 uur een livequiz. Zorg dat je er op tijd bij bent met maximaal twee leden van jullie team. (20 punten, 1 punt per vraag)

Vraag 3:

De organisatie van de Boreftse Dorpskwis is om te kopen met wat lekkers. Breng voor 22:00 uur wat lekkers naar de Willibrordschool en verdien hiermee wat punten. (5 punten)

Vraag 4:


In 2020 hebben we de Boreftse Dorpskwis voor het eerst georganiseerd ter ere van het 70-jarige bestaan van KPJ Bodegraven. Hieronder zie je het logo van KPJ Bodegraven. Het logo staat door het gehele boek. Hoeveel KPJ-logo's komen er in het gehele kwisboek voor? (5 punten)

Antwoord **18**



Vraag 5:

Hieronder zie je een aantal foto's die verwijzen naar een scheikundig element. Geef bij iedere foto de naam en de afkorting van het element. (4 punten)



- A **Helium (He)**
- B **Kwik (Hg)**
- C **Goud (Au)**
- D **Neon (Ne)**

Vraag 6:

'Alt-codes' worden gebruikt om karakters, tekens en symbolen in te voeren, die niet op het toetsenbord te vinden zijn. Wat is de Alt-code voor 'á'? (1 punt)

Antwoord **Alt 160**

Vraag 7:

Waarvoor staat de Alt-code '3'? (1 punt)

Antwoord **hartje**

Vraag 8:

Van welke bekende meesters zien jullie hier een deel van het schilderij en wat is de titel van het schilderij? (4 punten)



- A **Groenteverkoopster - Joachim Beuckelaer**
- B **Het Joodse bruidje - Rembrandt**
- C **De koppelaarster - Gerrit van Honthorst**
- D **De molen bij Wijk bij Duurstede - Jacob van Ruisdael**

Vraag 9:

Welke streek staat bekend om de menselijke torens? (1 punt)

Antwoord Catalonië (evt. Tarragona)

Vraag 10.A:

Wie zijn deze politici en bij welke partij horen zij?
(4 punten)



- A Martin van Rijn (PvdA)
- B Raymond Knops (CDA)
- C Ingrid van Engelshoven (D66)
- D Sander Dekker (VVD)

Vraag 10.B:

Wat hebben deze politici (vraag 10.A) gemeen? (1 punt)

Antwoord Het zijn allemaal ministers geweest (Rutte III).

Vraag 11:

Hieronder zien jullie een foto van de koninklijke familie. Wie staan er onder de letters A t/m G? (7 punten)



- A Pieter van Vollenhoven
- B Margriet der Nederlanden
- C Beatrix der Nederlanden
- D Maxima Zorreguieta
- E Willem-Alexander der Nederlanden
- F Laurentien Brinkhorst
- G Constantijn der Nederlanden

Vraag 12:

Hoeveel punten staan er weergegeven (excl. de antwoordregel)?
(2 punten)

.....

.....

.....

.....

.....

.....

.....

.....

.....

.....

Antwoord **927**

Vraag 13:


Hieronder staan een aantal vlaggen. Bij welke landen horen deze vlaggen? (4 punten)



- A **Vietnam**
- B **Togo**
- C **Ivoorkust**
- D **Indonesië**

Vraag 14:

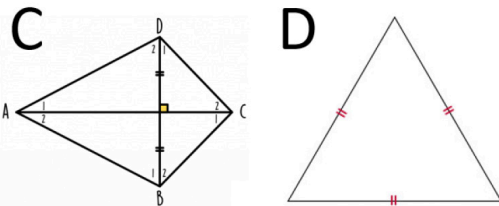
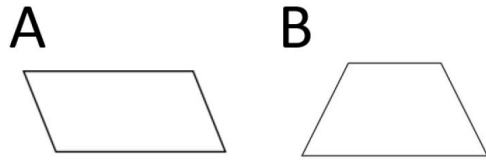
Hieronder staan een aantal illustraties uit kinderboeken. Herken jij de illustraties en weet jij uit welk kinderboek ze komen? Schrijf de titel van het boek (of serie) op. (6 punten)



- A **De mooiste vis van zee**
- B **De Gorgels**
- C **Floddertje**
- D **De verhalen van de Kleine Beer**
- E **Hoe overleef ik...**
- F **Dagboek van een muts**

Vraag 15:

Hoe heten onderstaande wiskundige figuren? (2 punten)



A Parellellogram

A

B Trapezium

B

C Vlieger

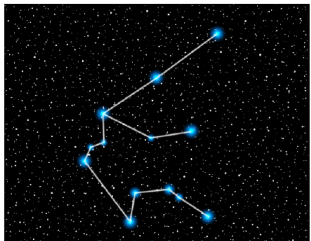
C

D Gelijkzijdige driehoek

D

Vraag 16:

Wanneer ben je jarig als dit je sterrenbeeld is? (1 punt)



Antwoord **20/21 januari t/m 18/19 februari**

Vraag 17:

Willy Vandersteen is de bekende schrijver van de stripboekenreeks Suske en Wiske. Velen van jullie zullen deze boeken gelezen hebben. De afbeeldingen op de voorkant van de stripboeken geven vaak al wat weg over de titel en het verhaal dat gaat komen. In de volgende foto's zijn de titels verwijderd. Wat zijn de titels van de vier onderstaande Suske en Wiske boeken? (4 punten)



A Het

B De

C De

D De

A Spaanse

B kaartendans

C Texasrakers

D Bokkenrijders

A spook

Vraag 18:

Welke letter is 01110110 volgens het computer alfabet? (1 punt)

Antwoord **V**

Vraag 19:

Wat is de nationale bloem van Zuid-Afrika? (1 punt)

Antwoord **Protea**

Vraag 20:

Wat is de complementaire kleur van rood? (1 punt)

Antwoord **Groen**

Vraag 21:

In welke stad is deze foto genomen? (1 punt)



Antwoord **Londen**

Vraag 22:

Hoe heette het eerste gemotoriseerde vliegtuig voor het vervoer van personen? (1 punt)

Antwoord **Wright-Flyer**

3. Het mooie Boreft

Vraag 1:
 Onderstaande woordzoeker bevat Bodegraafse straatnamen. Als de woordzoeker is opgelost, dan komt daar een Bodegraafs adres uit. Doe bij dit adres een brief met jouw teamnaam en teamnummer door de brievenbus voor 23:30 uur. (4 punten)

- | | |
|-------------------|--------------------|
| AMBACHTSHOF | MARKTSTRAAT |
| BEEMDGRAS | MEERVAL |
| BEURSSTRAAT | MEREL |
| BODELOLAAN | MEIJE |
| BOESEMSINGEL | NASSAUSTRAT |
| BOURGONDISCHELAAN | NIEUWSTRAAT |
| BRASEM | NOORDSTRAAT |
| BUITENKERK | OUIDBODEGRAAFSEWEG |
| DRONENSINGEL | PENNINGKRUID |
| EIBER | POPULIERENHOF |
| GOUDPLEVIER | RAADHUISPLEIN |
| GOUDSEWEG | SCHOUTENDREEF |
| GRAVENSTEIN | SPEENKRUID |
| GRUTTO | STADHOUDERSLAAN |
| HENEGOUWEHOF | VROUWENMANTEL |
| HOOGENDOORNLAAN | WILHEMINASTRAAT |
| JULIANASTRAAT | WILLEMSTRAAT |
| KONIGINNEWEG | ZONNEWEIDE |
| KONINGSTRAAT | |

G	O	U	D	S	E	W	E	G	T	A	A	R	T	S	T	K	R	A	M	
B	E	O	R	A	N	F	O	H	E	W	U	O	G	E	N	E	H	J	E	
R	L	W	P	N	I	E	U	W	S	T	R	A	A	T	I	P	L	A	N	
A	E	I	J	E	M	T	S	P	O	P	U	L	I	E	R	E	N	H	O	F
S	R	O	N	S	E	T	A	A	R	T	S	M	E	L	L	I	W	K	N	
E	E	H	N	N	F	A	D	I	U	R	K	N	E	E	P	S	U	O	M	
M	M	O	I	M	T	A	A	R	T	S	S	U	A	S	S	A	N	N	N	
F	J	O	N	D	A	R	A	Z	O	N	N	E	W	E	I	D	E	I	I	
E	U	G	G	R	M	T	K	R	E	K	N	E	T	I	U	B	E	N	E	
E	L	E	K	O	B	S	A	R	G	D	M	E	E	B	H	R	O	G	T	
R	I	N	R	N	A	A	L	S	R	E	D	U	O	H	D	A	T	S	S	
D	A	D	U	E	C	N	N	O	O	R	D	S	T	R	A	A	T	T	N	
N	N	O	I	N	H	I	B	O	D	E	L	O	L	A	A	N	U	R	E	
E	A	O	D	S	T	M	E	E	R	V	A	L	B	N	R	E	R	A	V	
T	S	R	E	I	S	E	R	E	I	V	E	L	P	D	U	O	G	A	A	
U	T	N	I	N	H	H	T	A	A	R	T	S	S	R	U	E	B	T	R	
O	R	L	B	G	O	L	E	T	N	A	M	N	E	W	U	O	R	V	G	
H	A	A	E	E	F	I	G	K	O	N	I	G	I	N	N	E	W	E	G	
C	A	A	R	L	E	W	N	B	O	E	S	E	M	S	I	N	G	E	L	
S	T	N	N	A	A	L	E	H	C	S	I	D	N	O	G	R	U	O	B	

Antwoord **Oranjeplantsoen nummer negen**

Vraag 2:

Maak met je team een zo gedetailleerd mogelijk schaalmodel van de Bodegraafse watertoren. Dit schaalmodel mag maximaal 50 cm groot zijn. Lever dit ontwerp voor 23:30 uur in de Willibrordschool. (30 punten)

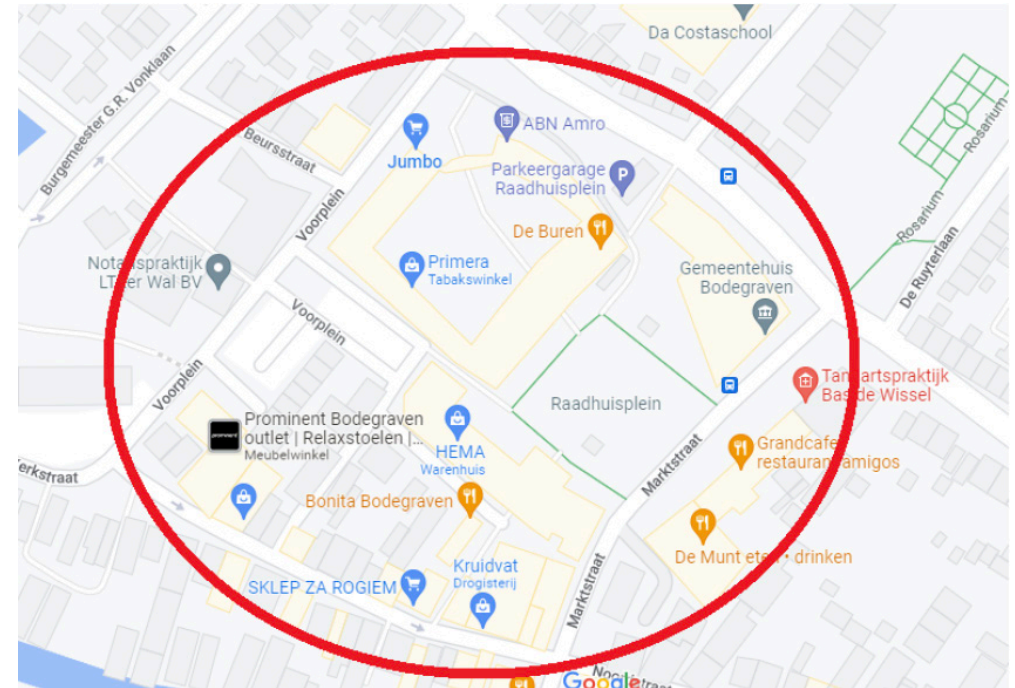


Vraag 3:

Probeer **verschillende** Bodegraafse clubshirts te verzamelen. Laat deze shirts bij het inleveren van het boek zien (en neem ze daarna weer mee naar huis). (1 punt per shirt, maximaal 5 shirts)

Vraag 4:

Hieronder is een plattegrond van Bodegraven weergegeven. Binnen de rood gemarkeerde cirkel bevinden zich vijf grote letters achter de ruiten van winkels. Zoek deze letters en maak hier één woord mee. (10 punten)



Antwoord **Lente of telen**

Vraag 5:

Bodegraven is een zeer waterrijk gebied, om het water te overbruggen heeft Bodegraven een groot aantal bruggen. Maak een selfie met elke onderstaande brug. Om duurzame energie te promoten krijgt elke selfie met daarop een teamlid met zijn/haar fiets twee punten extra. Stuur deze foto's op naar dorpskwis@kpj.nl voor 23:30 uur, vermeld hierbij je teamnaam + vraagnummer (3.5). (totaal 18 punten, 3 punten per selfie incl. fiets)



Vraag 6:

Hoeveel stoeptegels heeft de gemeente Bodegraven-Reeuwijk gewipt in 2021 volgens Rebonieuws? (1 punt)

Antwoord **1951 tegels**

Vraag 7:

Welke artiest heeft niet opgetreden op de Najaarsmarkt in 2019? Er zijn meerdere antwoorden mogelijk. (2 punten)

- A. Wesley Bronkhorst
- B. Wipneus en Pim
- C. Anita Witzier
- D. The pitcher
- E. Slingshot Coverband
- F. Stage Act

Vraag 8.A:

Bodegraven kent veel verenigingen met mooie tenues. Wij hebben een aantal van de mooiste outfits uitgekozen. Teken op de volgende pagina het tenue van korfbalvereniging Vriendenschaar in kleur. (5 punten) (zie volgende pagina)

Vraag 8.B:

Teken ook het tenue van volleybalvereniging VSTS in kleur. (5 punten) (zie volgende pagina)

Vraag 8.A:



Vraag 8.B:



Vraag 9:

Welke bekende Bodegravers zijn dit? (3 punten)



A Wil Bunnik

B Jaap Beijer

C Floris Veelenturf


Vraag 10:

Bodegraven is vroeger kort een stad geweest. In welke periode was dat? Benoem de maanden en jaartallen. (1 punt)

Antwoord oktober 1672 tot december 1674

Vraag 11:

In welke straat stond de fotograaf toen hij deze foto's maakte? (4 punten)



A Piet Heinstraat

B Indoorweg

C Heining en Damlaan

D Wilhelminastraat



Vraag 12.A:

Boer Geert vertrekt met de trekker van Meije nr. 1 en maakt een ommetje langs bekende plekken (Brouwerij de Molen, Gemaal Buleaus Brack, Pannenkoekerie 't Veldhuis, Watertoren en Wierickerschans) in Bodegraven, en eindigt bij de Total pomp.

In de trekker zit een tank van 40 liter. Hij start met een halve tank, en de trekker rijdt 1 op 7.

Wat is de volgorde van de bekende plekken als boer Geert via de kortste route langs alle plekken wilt om naar de pomp te rijden?

We gaan er hierbij vanuit dat boer Geert op alle autowegen mag rijden, behalve snelwegen. (5 punten)

- Antwoord : 1 **Watertoren**
- 2 **Brouwerij de Molen**
- 3 **Gemaal**
- 4 **Pannenkoekenhuis**
- 5 **Wierickeschans**

Vraag 12.B:

Hoe lang is de kortste route van vraag 12.A in kilometers (afgerond op 1 decimaal)? (1 punt)

Antwoord **14,6 km**


Vraag 12.C:

Als boer Geert bij de pomp is, dan gooit hij de tank nokkie vol. Hoeveel kost dat? (1 punt)

Antwoord **€43,96**

Vraag 13:

Er staan veel mooie oude huizen in Bodegraven. Waaronder deze op onderstaand plaatje. Welke functie had dit huis vroeger in Bodegraven? Wat is de naam van dit huis en van wie was het? (3 punten)



Functie: **Lagere Landbouw School**


Naam: **Villa Maria**

Eigenaar: **de Heer van Schaik**

Noordstraat 66 (geen punten voor)

Vraag 14:

Vanaf Bodegraven kun je veel mooie routes fietsen. Hoe lang (in hele kilometers) is deze route? Je mag er 2 kilometer naast zitten. (2 punten)



Antwoord **32 km**

Vraag 15:

Voor het scoutinggebouw aan de Dronenweg staat één lantaarnpaal. Welke nummer(s) en letter(s) staan op deze lantaarnpaal? (2 punten)

Antwoord **C000**

Vraag 16:

Voor de hoofdingang van de Da Costaschool staat één lantaarnpaal. Welke nummer(s) en letter(s) staan op deze lantaarnpaal? (2 punten)

Antwoord **A798**

Vraag 17:

Restaurant Anders heeft een heerlijke tapaskaart. Wat krijg je als je de nummers 8 en 34 besteld? (1 punt)

Antwoord **Carpaccio van ossenhaas & kaaskroketjes met mosterdmayonaise**

Vraag 18:

Het is iedere keer opnieuw een groot geheim: Wie wordt de kaaskoningin van Bodegraven?! Hiernaast staan een aantal foto's van kaaskoninginnen. Wat zijn de namen van deze kaaskoninginnen? Zet de foto's ook in de juiste chronologische volgorde (begin met de oudste foto). (5 punten)

Naam kaaskoningin foto A: **Jeannette Cromwijk (2016)**

Naam kaaskoningin foto B: **Fleur Sterk (2017)**

Naam kaaskoningin foto C: **Marlou Bink-Verkleij (2019)**

Naam kaaskoningin foto D: **Yvette Peters-de Bruin (2018)**

Juiste volgorde: **A** - **B** - **D** - **C**



Vraag 19:

Hoeveel functionele boerderijen zijn er op het Bodegraafse gedeelte van de J.C. Hoogendoornlaan? (1 punt)

Antwoord **7**

Vraag 20:

Bodegraven heeft de grootste kaasopslag van Europa. Hoeveel weegt de Goudse Boerenkaas op onderstaande foto (in hele grammen)? Je mag er 10% naast zitten. (1 punt)



Antwoord **438 gram**

Vraag 21:

Wat mist hier op de foto? (1 punt)

Antwoord **de molen**

.....



Vraag 22:

Op de Oranjeplantsoen zijn een aantal huisnummers overgeslagen. Welke huisnummers ontbreken? (1 punt)

Antwoord **13 & 15**

4. KPJ & Dorpskwiscie

Vraag 1:

Er bestaan veel verschillende lettertypes. Weten jullie welke lettertypes dit zijn? (6 punten)

- A. Boreftse Dorpskwis
- B. **Boreftse Dorpskwis**
- C. Boreftse Dorpskwis
- D. Boreftse Dorpskwis
- E. Boreftse Dorpskwis
- F. Boreftse Dorpskwis

- A **Calibri**
- B **Britannic Bold**
- C **Yu Gothic**
- D **SimSin**
- E **Arial**
- F **Times New Roman**

Vraag 2:

Hieronder zien jullie de ogen van de acht organisatoren van de Boreftse Dorpskwis. Welke ogen horen bij wie? (8 punten)



- A **Joëlle**
- B **Joyce**
- C **Marinka**
- D **Anne**
- E **Simone**
- F **Mirjam**
- G **Dave**
- H **Bart**

Vraag 3:

Hoe oud zijn, vandaag de dag, de commissieleden van de Dorpskwis bij elkaar? (2 punten)

Antwoord **211 jaar**

Vraag 4:

Hoeveel jaar bestaat de KPJ Bodegraven? (1 punt)

Antwoord **72 jaar**

Vraag 5:

Wat was het thema van het tentfeest van KPJ Bodegraven in 2019? (1 punt)

Antwoord **Après-ski im Sommer**

Vraag 6:

Wat is de locatie (straatnaam + huisnummer) van het tentfeest van KPJ Bodegraven? (1 punt)

Antwoord **J.C. Hoogendoornlaan 5**

Vraag 7:

Wat was het adres van het schuurfeest van KPJ Bodegraven in december 2018? (1 punt)

Antwoord **Duitslandweg 2**

Vraag 8:

De KPJ heeft een maandelijks digitaal blad genaamd: 't Braeckpraetje. In 't Braeckpraetje staan de verjaardagen van KPJ-leden. Hoeveel KPJ-leden waren er jarig op 19 december 2021? (1 punt)

A. 1 **B. 2** C. 3 D. 4

Vraag 9:

Hoeveel edities van het Braeckpraetje zijn er per jaar? (1 punt)

Antwoord **11**

Vraag 10:

Wat is momenteel geen rubriek in het Braeckpraetje? (1 punt)

A. Femke's fantastische fabels C. Food Story
B. Probleem'n met Johan **D. De Moppentrommel**

Vraag 11:

Welke kleur heeft een KPJ munt sinds 2018. (1 punt)

Antwoord **Rood**

Vraag 12:

Hoeveel kostte een KPJ munt tijdens het tentfeest in 2018? (1 punt)

Antwoord **€1,70**

Vraag 13:

Jarenlang heeft KPJ Bodegraven de 'Kale Nel Klaverjasmarathon' georganiseerd. Hoeveel punten is 'de boer' in troefkleur waard? (1 punt)

Antwoord **20**

5. Sportieve taferelen

Vraag 1:
 Bij welke bekende voetballers horen deze voetbalvrouwen?
 (4 punten)



- A **Luis Suárez**
- B **Christiano Ronaldo**
- C **Mario Götze**
- D **Frenkie de Jong**

Vraag 2:
 Voetbal is de populairste sport ter wereld om te spelen. Wat is de daarop volgende populairste sport ter wereld? (1 punt)

Antwoord **Cricket**

Vraag 3:
 Er zijn verschillende sporten die overgenomen zijn uit andere

landen zoals Tang Soo Do, Taekwondo, Karate en Kempo. Uit welke landen komen deze sporten? (4 punten)

Antwoord **Karate uit Japan, Tang Soo do en Taekwondo uit Korea, Kempo uit China.**

Vraag 4.A:
 Voor bekende sporters zijn veel verschillende bijnamen. Hieronder staan 5 verschillende bijnamen. Bij wie horen deze bijnamen? (5 punten)

- A: Het pistool : **Alberto Contador**
- B: De vlo : **Lionel Messi**
- C: De das : **Bernard Hinault**
- D : De grootste : **Muhammed Ali**
- E : Thunderbolt : **Usain Bolt**

Vraag 4.B:
 In vraag 4.A zijn bijnamen opgesomd van sporters. Met welke sport zijn deze sporters bekend geworden? (5 punten)

- A **Wielrennen**
- B **Voetbal**
- C **Wielrennen**
- D **Boksen**
- E **Atletiek (sprinten)**

Vraag 5:
 Hiernaast zien jullie foto's van bekende sporters in vrijetijdskleding. Wie zijn deze toppers? (4 punten)



- A **Anna van der Breggen**
- B **Jetze Plat**
- C **Suzanne Schulting**
- D **Niek Kimmann**

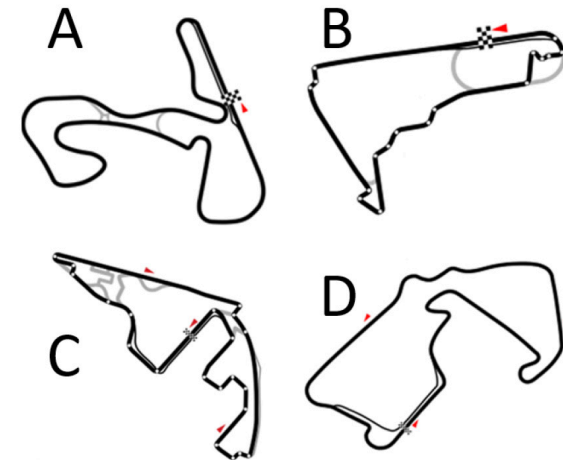
Vraag 6:
 Nederland is een schaatsland. Noem 5 ijsbanen die een 400 m baan hebben. (5 punten)

Antwoord **IJstadion De Meent/ ijssportcentrum Alkmaar, Jaap Eden baan, Olympisch stadion/ De Coolste baan, Kunstijsbaan Breda, De Uithof, De Scheg, Kunstijsbaan Eindhoven, IJsbahn Twente, Glanerbrook, Vechtsebanen, etc.**

Vraag 7:
 Wat hebben de sporters Tite (Braziliaanse voetballer), Vilhj Imur Einarsson (IJslands atleet), Anthony Charteau (Franse wielrenner) en Domen Prevc (Sloveens schansspringer) met elkaar gemeen? (2 punten)

Antwoord **Ze zijn geboren op 4 juni.**

Vraag 8:
 Afgelopen jaar werd het formule 1-seizoen door velen op de voet gevolgd. Hieronder staan een aantal parcours in spiegelbeeld. Wat is de naam van het circuit en welke Grand Prix werd daar gereden? (4 punten)



- A **Circuit Zandvoort, GP van Nederland**
- B **Autódromo Hermanos Rodríguez, GP van Mexico**
- C **Yas Marina Circuit, GP van Abu Dhabi**
- D **Circuit van Silverstone, GP van Groot-Britannië**

Vraag 9:

Hoeveel goals werden in totaal tijdens het EK Voetbal 2020 gemaakt? (1 punt)

Antwoord **142**.....

Vraag 10:

Helaas kreeg de Nederlandse Matthijs de Ligt een schorsing tijdens dit toernooi. Welke overtreding had hij begaan en in welke wedstrijd was dit? (2 punten)

Antwoord **Rode kaart door hands in de 8e finale tegen Tsjechië.**.....

Vraag 11:

Hieronder staan een aantal getallenreeksen die met het EK Voetbal 2020 te maken hebben. Maak de reeksen af: (6 punten)

Reeks A: 53 - 66 - 79 - 49 - 74 - 60 - 10 - 34 - **88** - ...

Reeks B: 53 - 18 - 20 - 35 - 39 - 74 - 30 - **71** - ...

Reeks C: 74 - 61 - 57 - 84 - 58 - **12** - ...

Reeks A: de 9e goal werd in de 88ste minuut gemaakt.
Reeks B: het 8e eigen doelpunt werd in de 71e minuut gemaakt.
Reeks C: de 6e gemiste strafschop vond plaats in de 12e minuut.



Vraag 12:

Wat bedoelt een voetbalscheidsrechter met het volgende signaal? (1 punt)

Antwoord **Indirecte Vrij Schop**.....

Vraag 13:

De VAR is een scheidsrechter die, buiten het veld, kan ondersteunen in het nemen van beslissingen tijdens de wedstrijd. Dit wordt gedaan met behulp van videobeelden. Waar staat de afkorting VAR voor? (1 punt)

Antwoord **Video Assistant Referee**.....

Vraag 14:

Speciaal voor de Boreftse Dorpskwis hebben we een helikoptervlucht over Europa gemaakt. Terwijl we genoten van het uitzicht hebben we een aantal foto's van voetbalstadions gemaakt. Welke voetbalclubs horen bij deze stadions? (4 punten)



A **NAC Breda**.....


B **Arsenal**.....

C **Juventus**.....

D **FC Barcelona**.....

Vraag 15:


Sportvissen! We zien hieronder de staarten van vier vissen die in Nederland voorkomen. Geef de namen van deze vissen. (4 punten)



- A **Karper**
- B **Snoek**
- C **Baars**
- D **Kopvoor**

Vraag 16:

Wie is deze motorsporticoon? (1 punt)



Antwoord **Francesco "Pecco" Bagnaia**

6. Viva la musica

Vraag 1:

Vorig jaar zocht K3 naar een nieuw K3-lid. Maak een auditiefilmpje met daarin een K3 dans en/of zang van maximaal 1 minuut en stuur het op naar dorpskwis@kpj.nl voor 23:30 uur, vermeld hierbij je teamnaam + vraagnummer (6.1). Wordt beoordeeld op originaliteit en zangkwaliteit. (15 punten)

Vraag 2:

Queen, wie kent ze niet? Hun albumcover voor 'Queen II' is te zien op onderstaande afbeelding. Aan jullie de taak om deze albumcover zo goed mogelijk na te maken! Stuur je foto voor 23:30 uur naar dorpskwis@kpj.nl, vermeld hierbij je teamnaam + vraagnummer (6.2). Er wordt gelet op de nauwkeurigheid van de uitvoering. (10 punten)



Vraag 3.A:

We hebben een aantal Nederlandse liedjes laten vertalen naar het Engels. Kan jij het nummer en de artiest raden?

Because one cannot exist without the other
Just take my hand
Don't ask too many questions
You can't carry the world alone
(2 punten)

Antwoord **Pak maar mijn hand - Nick & Simon**
.....
.....

Vraag 3.B:

I never thought about tomorrow, today was long enough
Until I saw you, and I suddenly thought of tomorrow morning
I didn't love love, for me there was no woman
Until I saw you and suddenly I loved you
(2 punten)

Antwoord **Toen ik je zag - Hero of Guus Meeuwis**
.....
.....

Vraag 3.C:

She was sleeping,
I asked her last night "Wait for me"
Maybe I'll be free earlier tonight
She nodded yes, but she knows me
(2 punten)

Antwoord **Zij gelooft in mij - André Hazes of JAH6**
.....
.....

Vraag 4:


Hieronder staan 4 verschillende nummer 1-hits uit de Nederlandse Top 40. Zet onderstaande nummers in de volgorde van het meeste aantal weken op de 1e positie naar het minste aantal weken op de 1e positie. (2 punten)

- A. Suzan & Freek - Als Het Avond Is
- B. BL F ft. Geike Arnaert - Zoutelande
- C. Duncan Laurence - Arcade
- D. Rolf Sanchez - Más Más Más

Meeste aantal weken - **B** - **C** - **A** - **D** - Minste aantal weken

Vraag 5:

Er bestaan veel verschillende soorten muziekinstrumenten. We hebben een drietal muziekinstrumenten uitgekozen. Hoe heten deze muziekinstrumenten? (3 punten)



A **Nyckelharpa**

B **Lure**

C **Didgeridoo**

Vraag 6:

Op zolder vonden we nog een aantal LP hoezen. Helaas zijn de naam van de band en de titel van het album verdwenen. Welke bands en titels horen bij onderstaande hoezen? (6 punten)



Band:

Queen

Naam Album:

The Miracle



Band:

The White Stripes

Naam Album:

Elephant



Band:

Kings of Leon

Naam Album:

Because of the times

Vraag 7:

We zijn op zoek naar tien hits uit de top 2000. Helaas werkte het toetsenbord niet meer en konden we alleen emoji's gebruiken.

Welke hits bedoelen we? (10 punten)

1. (Engelstalig) 🎹🙄

Nummer: Piano man

Artiest: Billy Joel

2. (Engelstalig) 📅11🌧️

Nummer: November rain

Artiest: Guns 'N Roses

3. (Engelstalig) 🕺👑

Nummer: Dancing Queen

Artiest: ABBA

4. (Engelstalig) 👁️🐯

Nummer: Eye of the tiger

Artiest: Survivor

5. (Engelstalig) 🖤👁️

Nummer: Black bird

Artiest: The beatles

6. (Engelstalig) 💍🔥

Nummer: Ring of fire

Artiest: Johnny Cash

7. (Nederlandstalig) ☁️☀️

Nummer: Het regent zonnestralen

Artiest: Acda & De Munnik

8. (Engelstalig) 🕒2🕒

Nummer: 9 to 5

Artiest: Dolly Parton

9. (Engelstalig) 🏁10987654321

Nummer: The final countdown

Artiest: Europe

10. (Engelstalig) 📡❤️

Nummer: Radar love

Artiest: Golden Earring

Vraag 8:

Hieronder hebben we een aantal artiesten afgebeeld, die een grote hit hadden met in de songtekst een cijfer of jaartal. Vul de gevraagde cijfers in en maak de som! (3 punten)

'So tonight I'm gonna party like it's ____'

'I got __ problems but you won't be one'

'I don't know about you But I'm feeling __'

'And I would roll ___ miles'

'_ times a lady'

Antwoord 422 of 4.266

Vraag 9:

Wat hebben de volgende nummers met elkaar gemeen? (1 punt)

Blijven slapen (Snelle & Maan) - Blinding Lights (The Weeknd) - Arcade (Duncan Laurence) - One Kiss (Calvin Harris & Dua Lipa)

Antwoord Deze nummers stonden op nr. 1 in de Top 40 op 18 mei/in week 40.

Vraag 10:

We zijn op zoek naar een nummer uit de Radio 2 Top 2000. Welk nummer bedoelen we met onderstaande getallenreeks? (1 punt)
4 - 3 - 2 - 2 - 2 - 2 - 3 - 1 - 2 - 2

Antwoord Hotel California - Eagles

Vraag 11:

In 2019 werd de 64ste editie van het Eurovisiesongfestival gehouden. Nederland wist voor het eerst in 44 jaar de finale te winnen met het nummer Arcade van Duncan Laurence. Hoeveel punten kreeg Duncan Laurence bij de Televoting? (1 punt)

Antwoord 261 punten

Vraag 12:

Van hoeveel verschillende landen kreeg Duncan Laurence de beroemde '12 punten' bij deze Televoting? (1 punt)

Antwoord 2 landen (België en Roemenië)

Vraag 13:

Er zijn DJ's die zich vermommen tijdens de shows, welke DJ's zijn dit? (2 punten)















A Deadmau5 of Joel Thomas Zimmerman

B Marshmellow of Chris Comstock

7. Beeldbuis

Vraag 1:

Geen film is compleet zonder goede soundtrack! Hieronder staan zes verschillende films en zes verschillende artiesten. Welke film hoort bij welke artiest? En wat is de naam van deze soundtrack? (6 punten)

1.		2.		3.	
4.		5.		6.	
A.		B.		C.	
D.		E.		F.	

- 1 - **E** Naam soundtrack **My heart will go on**
- 2 - **B** Naam soundtrack **(I've Had) The time of my life**
- 3 - **A** Naam soundtrack **Circle of life**
- 4 - **C** Naam soundtrack **I see fire**
- 5 - **F** Naam soundtrack **You know my name**
- 6 - **D** Naam soundtrack **Kiss from a rose**

Vraag 2:

Hieronder staan een aantal beroemde filmquotes. Weet jij bij welke films deze quotes horen en welke karakters deze quotes hebben gezegd? (5 punten)

1. 'I WANT TO PLAY A GAME'

Film: **Saw**

Karakter: **Jigsaw**

2. 'I'M KING OF THE WORLD'

Film: **Titanic**

Karakter: **Jack Dawson**

3. 'MAY THE FORCE BE WITH YOU'

Film: **Star Wars**

Karakter: **Obi-Wan Kenobi, Han Solo, General Dodonna, e.a.**

4. 'TO INFINITY AND BEYOND'

Film: **Toy Story**

Karakter: **Buzz Lightyear**

5. 'HOUSTON, WE HAVE A PROBLEM'

Film: **Apollo 13**

Karakter: **Jim Lovell**

Vraag 3:

Een bekende televisiequiz op de Nederlandse publieke omroep is '2 voor 12'. Bij deze speciale editie geven we jullie 5 vragen. De beginletters van de antwoorden kun je invullen op de bijbehorende plaats. De overige 7 letters geven we cadeau. Kunnen jullie het 12-letterwoord raden? (5 punten)

- 2. Wie is de presentatrice van '2 voor 12'?
- 3. Welke componist is na 23 jaar gestopt als liedjesschrijver van K3?
- 6. Wat wordt er traditiegetrouw gegeten met roggebrood en spek?
- 9. Welke popgroep had een hit met 'Voulez-Vous'?
- 12. Aan wie gaf God volgens de Hebreeuwse bijbel de opdracht om een ark te bouwen?

Overige letters: G - E - E - K - P - R - W

1	2	3	4	5	6	7	8	9	10
K	A	M	P	E	E	R	W	A	G





Vraag 4:

Een ander welbekend televisieprogramma is 'De slimste mens'. In de puzzelronde krijgen de spelers een raster met 12 omschrijvingen of woorden. Er horen telkens 4 omschrijvingen bij elkaar en samen vormen zij één omschrijving voor een woord dat gezocht wordt. Naar welke 3 kernwoorden zijn we op zoek? (5 punten)

Dansen	Te koop	Benenwagen
Inslag	Bier	Ontlading
Los	Onweer	Telefoon
Toe	Binnen	Schicht

Woord 1: Tap (taptoe, biertap, tapdansen, telefoontap)

Woord 2: Lopen (benenwagen, te koop lopen, loslopen, binnenlopen)

Woord 3: Bliksem (inslag, onweer, ontlading, schicht)



Vraag 5:

'Wie ben ik?' is een bekende spelshow van RTL waarin spelers aan de hand van cryptische omschrijvingen en aanwijzingen moeten raden wie of wat zij zijn. (2 punten)

Wie ben ik?

Je bent een man en geboren tussen 1990 en 2000.
Jij krijgt een heel goed humeur van een slechte bui.
Jij gaat altijd tot het uiterste.
Je geeft niet graag een rondje weg.
Je kan jou wel voor een boodschap sturen.
Je bent een behoorlijk ongeremd type.
Je komt overal op de wereld.

Wie ben ik: Max Verstappen

Vraag 6:

In 2016 waren er nog maar negen influencers ingeschreven in het handelsregister van de KvK. Inmiddels zijn dat er bijna duizend. Herken jij de tattoo's van deze Nederlandse influencers? (4 punten)



Influencer A: Didi Shanna

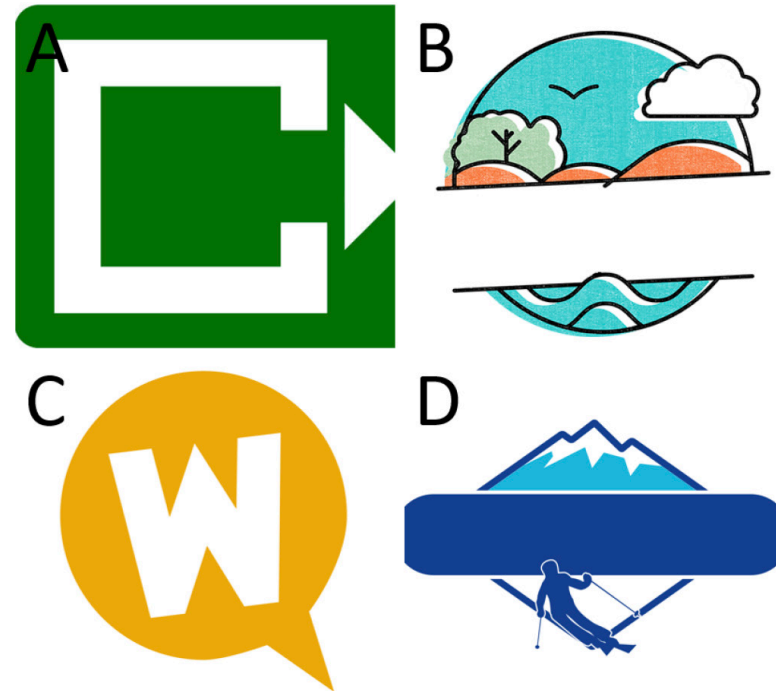
Influencer B: Monica Geuze

Influencer C: OnneDi of Dionne Slagter

Influencer D: Jessie Maya

Vraag 7:

Hieronder zien jullie een aantal logo's van televisieprogramma's. Welke programma's zijn dit? (4 punten)



A Ik Vertrek

B Vroege Vogels

C Willem Wever

D (RTL) Snowmagazine



Vraag 8:

Een populair onderdeel van Q-music is het raden van 'Het Geluid'. Kun je raden welk alledaags geluid dit is? Scan de QR-code! Hint: je gebruikt dit vanavond vaak! (5 punten)

Antwoord **Het opendraaien van een pen.**

.....



Vraag 9:

Hoe heet de talkshow die door Johnny de Mol wordt gepresenteerd? (1 punt)

Antwoord **HLF 8**

Vraag 10:

Welke mannelijke acteur speelt in de film Top Gun de hoofdrol? (1 punt)

Antwoord **Tom Cruise**

8. Kwissers klaar: puzzelen maar!

Vraag 1:
We zijn op zoek naar 10 verschillende plaatsnamen. Weet je welke plaatsnaam we bedoelen? Zet de letter van de bijbehorende vraag op de juiste plek van de plaatsnaam op de kaart. (10 punten)

Voorbeeld: De burgemeester wilde een boom planten en liet een gat door zijn.... **Antwoord:** Bodegraven.

Vraag 1.A: Ik ben slecht in schaken, maar ze zeggen dat ik nog **Rotterdam**.....

Vraag 1.B: Er waren veel herten aan het slapen, maar ik zag toch echt een **Hindeloopen**.....

Vraag 1.C: Zoveel geld voor zo'n klein beetje hout?! Ik denk dat ik voor dat geld een heel **Boskoop**.....

Vraag 1.D: Ik hou alleen van zomers, vandaar dat ik voor de **Winterswijk**.....

Vraag 1.E: Helaas is mijn bank versleten. Ik denk dat ik er een **Nieuwkoop**.....

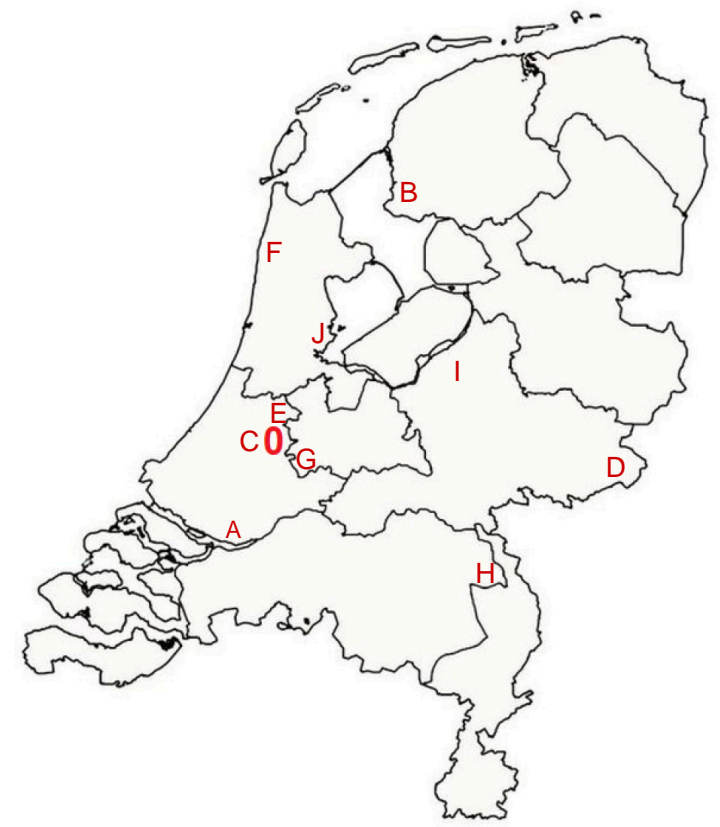
Vraag 1.F: In de winkel verkopen ze alleen maar mutsen, maar ik draag toch liever **Petten**.....

Vraag 1.G: Als mijn fiets kapot is, dan **Lopik**.....

Vraag 1.H: Weet jij wat de burgemeester verdient? Nee, hij praat nooit **Overloon**.....

Vraag 1.J: Ik vind het leuk om met nonnen te schaken, maar ik denk dat ik liever met **Monnickendam**.....

Vraag 1.I: Els had hem flink beledigd, maar ik denk niet dat het **Elspeet**.....



Vraag 2:

Morse is een communicatiecode, bestaande uit met tussenpozen uitgezonden signalen, die letters, leestekens en cijfers vertegenwoordigen. Welke morse boodschap staat hieronder? (1 punt)

..... / ... / / / /
..... / / / / /
.....

Antwoord **Namens de organisatie wensen wij jullie vanavond veel plezier en succes!**

Vraag 3:

Waar ben ik? Ik ga op vakantie in Nederland en sta op dit punt. Ik zie twee zeeën en ik kan overvaren naar twee eilanden. (1 punt)

Antwoord **Den Helder**

Vraag 4:

Waar ben ik? Ik sta in een stad waar kaaskoppen wonen. Hier hebben ze zelfs een kade vernoemd naar het goudgele drankje. (1 punt)

Antwoord **Alkmaar**

Om het een stapje makkelijker te maken is de volgende vraag 5 over het mooie Boreft. Waar ben ik?

Vraag 5.A: Maxima, en in de toekomst Amalia, zouden niet misstaan als inwoners van deze weg. (1 punt)

Antwoord **De Koninginneweg**

Vraag 5.B:

Dit centrum is zeer welvarend. (1 punt)

Antwoord **IKC Schatrijk**

Vraag 5.C:

Deze weg is geen twaalf, ook geen tien en rond 17.00 uur ben je er ook niet snel weg. (1 punt)

Antwoord **N11**

Vraag 5.D:

Volgens Sam kun je in dit huis heel veel doen. (1 punt)

Antwoord **Het huis van alles**

Vraag 5.E:

Ondanks de naam rijdt langs deze weg geen trein. (1 punt)

Antwoord **Spoorstraat**

Vraag 5.F:

In deze winkel kom je niet om rustig te wandelen. (1 punt)

Antwoord **De Hardloopwinkel**

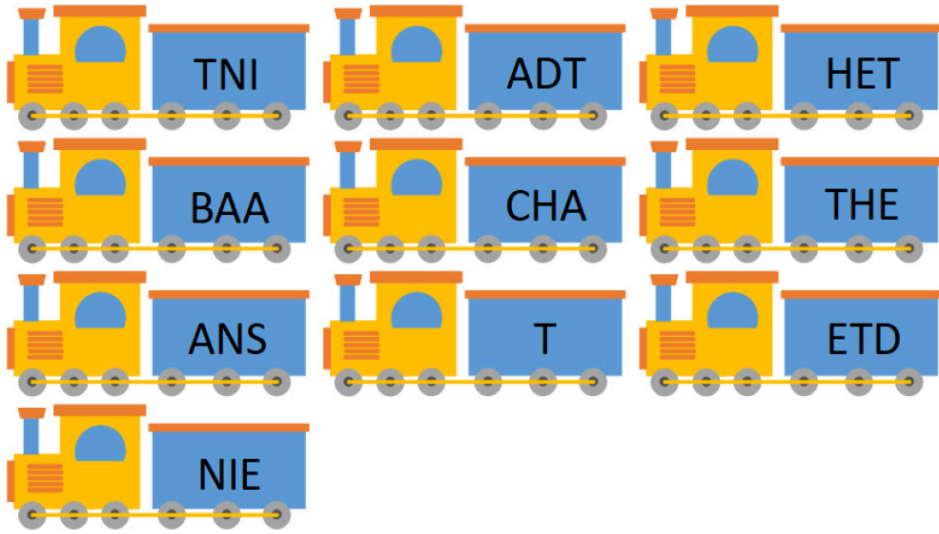
Vraag 5.G:

In dit café op de hoek heeft iemand de leiding genomen. (1 punt)

Antwoord **BAAS Bodegraven**

Vraag 9:

Helaas klopt de volgorde van onderstaande treinstellen niet meer. Welk spreekwoord kun je vormen als je de treinstellen in de juiste volgorde zet? (2 punten)



Antwoord Baat het niet dan schaadt het niet.

Vraag 10:

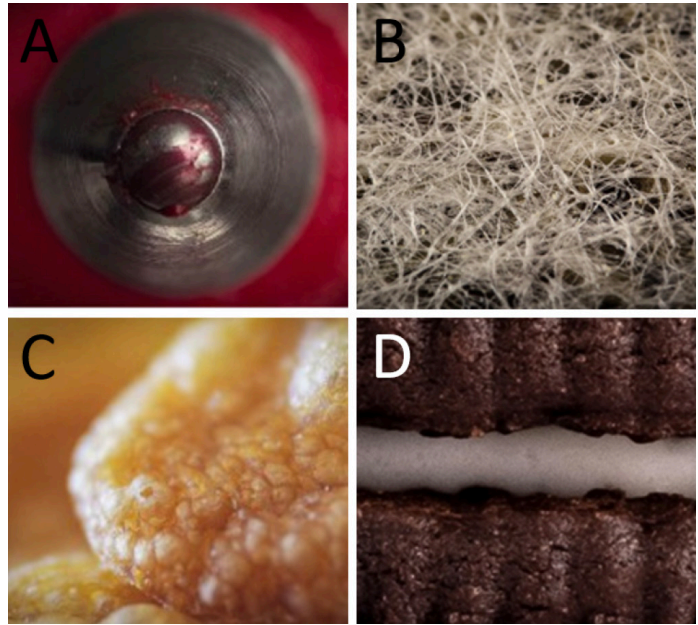
Tijdens één van de corona persconferenties waren we druk bezig met het maken van deze vraag. Enkele maatregelen vielen wat minder goed, waardoor ons inktpotje deels over het blad is gevallen. Hierdoor zijn er bij de onderstaande woorden verschillende letters niet zichtbaar. Welke woorden stonden er? (5 punten)

- 1 R U P E I N E I E
- 2 E O G O E T
- 3 M S R S H A E
- 4 B O J E R A A A G
- 5 L K N E O E K
- 6 B R V L J E S I O L I E
- 7 C O N U K J
- 8 C I I O T
- 9 U C S E
- 10 N E R H L V T E R A N E V I

- 1 Druppelinfectie
- 2 Ellebooggroet
- 3 Hamsterschaamte
- 4 Blokjesverjaardag
- 5 Balkonbezoek
- 6 Bierviltjesvirologie
- 7 Coronabuikje
- 8 Covidioot
- 9 Kuchscherm
- 10 Anderhalvemetersamenleving

Vraag 11:

Kun je herkennen wat er wordt afgebeeld met onderstaande ingezoomde foto's? (4 punten)



- Voorwerp 1: **Balpen**
- Voorwerp 2: **Theezakje**
- Voorwerp 3: **Cornflakes**
- Voorwerp 4: **Oreo**

Vraag 12:

Patrick en Loes gaan een dag op pad en spreken af bij het station in Bodegraven. Loes reist vanaf Alphen aan den Rijn en moet 12 km afleggen om bij het station te komen. Patrick komt vanuit Woerden en moet 10 km afleggen. De auto van Loes rijdt gemiddeld 80 km per uur. Patrick neemt de bus en deze rijdt gemiddeld 75 km per uur. Ze vertrekken beiden om 09:45 uur. Hoe laat komen Patrick en Loes aan op het station in Bodegraven? (2 punten)

Loes: **09:54 uur** Patrick: **09:53 uur**

Vraag 13:

Binaire puzzel! In elke lege cel moet een nul of een één ingevuld worden. Er mogen niet meer dan twee dezelfde cijfers direct naast of direct onder elkaar staan. Elke rij en elke kolom is uniek en bevat evenveel nullen als enen. Los de puzzel op! (2 punten)

1			1					
								0
		1	1					
1							0	
		0		1	1			1
	1					0	0	
								1
0		1						
					1	1		1
								1

Vraag 14:

Welk woord kun je vinden met behulp van de paardensprong?

(1 punt)

S	V	F
L		T
I	E	A

Antwoord **Festival**

Vraag 15:

Hieronder zie je een aantal cijferreeksen. Vul de ontbrekende getallen in. (5 punten)

11	30	49	68	87	...
-13	-23	-32	-40	-47	...
11	-6	-26	-49	-75	...
2	6	8	14	22	36
5	-4	-4	-13	-49	-130

9. (Oude) Beruchte Boreftse Berichten

Vraag 1:

Samen met SSCB De Zon heeft KPJ Bodegraven in 2018 een festival georganiseerd. Wat is de naam van dit festival? (1 punt)

Antwoord **Pleinvibes**

Vraag 2:

Welke Bodegraafse sportvereniging is opgericht in juni 1965 door elf vrienden? (1 punt)

Antwoord **A.K.V. Vriendenschaar**

Vraag 3:

Welk café zat voorheen op de plek waar nu Bistro Joy'Si zit? (1 punt)

Antwoord **The Lowlander of Witte Parel**

Vraag 4:

Welke Bodegraafse functie is in 2021 tot immaterieel erfgoed benoemd? (1 punt)

Antwoord **Kaaskoningin**

Vraag 5:

In welke jaren werd Bodegraven bezocht door Gelderse troepen onder leiding van Maarten van Rossum? (1 punt)

Antwoord **In 1507 en 1512**

Vraag 6:

Welke Bodegraafse vereniging haalde het meeste geld op tijdens de Grote Clubactie in 2021? (1 punt)

Antwoord **ESTO**

Vraag 7:

Veel oude beroepen bestaan niet meer. Wat was volgens de Kijk Op Bodegraven-Reeuwijk de achternaam van de eerste dorpsomroeper van Bodegraven? (1 punt)

Antwoord **De Vlieg**

Vraag 8:

Welk bedrijf uit de gemeente Bodegraven-Reeuwijk kreeg de mooiste Mach3Blocks Website Award 2021? (1 punt)

Antwoord **Graphic Design**

Vraag 9:

Welke 'Notenkraker van de week' kostte €6,50 in week 51-2021? (1 punt)

Antwoord **Studentenhaver**

Vraag 10:

In Bodegraven branden er nog wel eens dingen af. Wanneer (dd-mm-jjjj) vonden de onderstaande gebeurtenissen plaats? (3 punten)

- A. Brand bij Groenland kip
- B. Brand in de opslag van Blokker
- C. Brand in de Katholieke kerk

A **11 juli 2021**

B **22 augustus 2008**

C **24 maart 1982**

Vraag 11:

In de jaren 40 richtte André de Jong de Andrélon fabriek op in Bodegraven. In welk jaartal is de fabriek gesloten? (1 punt)

Antwoord **2005**

Vraag 12:

In Bodegraven-Reeuwijk zijn er 23 gemeenteraadszetels. Welke partij heeft de grootste absoluut en procentuele groei doorgemaakt als 2018 wordt vergeleken met 2014? (1 punt)

Antwoord **VVD**

Vraag 13:

Wat zat er vroeger in het Evertshuis voordat het een cultureel centrum werd? (1 punt)

Antwoord **Zaadhandel Turkenburg**

Vraag 14:

Aan wie dankt het Evertshuis haar naam? (1 punt)

Antwoord **Notarisorganisatie Everts**

Vraag 15:

Wanneer is het logo van de Kijk op Bodegraven-Reeuwijk veranderd naar het onderstaande logo (geef het weeknummer en jaartal)? (1 punt)



Antwoord **Week 30 2021**

Vraag 16:

Welke Bodegraafse ondernemingen hebben dit jaar de ondernemersprijs Midden-Holland gewonnen in de categorieën MKB en Grootzakelijk? (2 punten)

Antwoord **Melkveebedrijf Oostdam en Vergeer Kaas**

Vraag 17:

In de Kijk op Bodegraven-Reeuwijk staan elke week mooie ingezonden foto's in de categorie 'uw eigen kijk'. De onderstaande foto is ook ingezonden. Uit welke week komt deze foto? (1 punt)



Antwoord **Week 4 2022**

Vraag 18:

Aan welke twee wateren ligt het fort Wierickerschans? (1 punt)

Antwoord **Enkele Wiericke en de Oude Rijn**

10. Back to school

We gaan terug naar de middelbare school. Helaas moeten we weer examen doen voor een aantal vakken.

Vraag 1 rekenen:

Je kan zelf ruitenwisservloeistof voor de winter maken: giet 1,5 liter gedistilleerd water in een schone, lege kan. Voeg 90 cl witte azijn toe. Je gebruikt echter 2,25 liter gedistilleerd water. Hoeveel milliliter witte azijn moet je volgens het recept toevoegen? (2 punten)

Antwoord **1350 ml**

Vraag 2 rekenen:

De knoop, afgekort kt, is een eenheid van snelheid die veel gebruikt wordt in de scheepvaart en in de gemotoriseerde luchtvaart. Een knoop is een zeemijl (1852 m) per uur. Met een jetski vaar je een traject van 4 zeemijl in 3 minuten. Wat is de gemiddelde snelheid in knopen? (2 punten)

Antwoord **80 kt**

Vraag 3 biologie:

We gaan tijdens de biologieles met de lichtmicroscopie werken. We willen graag yoghurt onderzoeken. Wat kunnen we zien met de lichtmicroscopie (mogelijk meerdere antwoorden goed)? (2 punten)

- A **Lactobacillus bulgaricus**
- B **Lactococcus thermophilus**
- C Calcium

D Melkzuur
E Vitamine B12

Vraag 4 biologie:

Bij wespen komt een dominant, X-chromosomaal allel B voor dat vierkantvormige ogen veroorzaakt. Allel b veroorzaakt normale ogen. Het dominante, niet X-chromosomale allel A veroorzaakt normale vleugels en het allel a veroorzaakt kleine vleugels. Een mannetje wordt gekruist met twee verschillende vrouwtjes (1 en 2) met als resultaten:

- 1) Alle nakomelingen hebben normale vleugels; 50% van zowel de mannetjes als vrouwtjes heeft vierkantvormige ogen en de andere 50% normale ogen
 - 2) Alle nakomelingen hebben vierkantvormige ogen; 75% heeft normale vleugels en de overige 25% heeft kleine vleugels.
- Wat is het genotype van het mannetje? (2 punten)

Antwoord **X(b) YAa**

Vraag 5: Scheikunde:

Koolstofdatering is een methode van radiometrische datering waarmee de ouderdom van organisch materiaal en ecofacten wordt bepaald met behulp van de isotoop koolstof-14. Koolstof-14 (^{14}C) is een isotoop van koolstof die in onze atmosfeer uit stikstof kernen gevormd wordt. (3 punten)

Geef het aantal protonen, neutronen en elektronen van een ^{14}C atoom.

- aantal protonen: **6**
- aantal neutronen: **8**
- aantal elektronen: **6**

Vraag 6 scheikunde:

Omega-3-eieren leveren per stuk ten minste 110 mg omega-3-vetzuren. Volgens de gezondheidsraad moet je gemiddeld per dag 450 mg omega-3-vetzuren binnenkrijgen. Verspreid over de week eet Lisa 3 omega-3-eieren. Bereken hoeveel procent van de aanbevolen hoeveelheid omega-3-vetzuren Lisa ten minste binnenkrijgt door het eten van 3 omega-3-eieren per week. (2 punten)

Antwoord 10,5%.....

Vraag 7 natuurkunde:

Herman den Blijker kookt op een hoogte van 2000 m in de mand van een heteluchtballon. Gasten genieten tijdens het diner van het eten en het uitzicht. Hij kookt eieren voor de gasten. Wat gebeurt er door de hoogte met de temperatuur van het kokende water? (2 punten)

Antwoord Door de lagere druk is de temperatuur van het kokende water lager......

Vraag 8 natuurkunde:

Hieronder staan twee verschillende mogelijkheden om de kabels aan de balk vast te maken. Vergelijk de kracht in kabel A op manier 2 met die op manier 1. (1 punt)



Wat is juist?

- A. De kracht in kabel A is op beide manieren even groot.
- B. Op manier 2 is de kracht in kabel A groter.**
- C. Op manier 2 is de kracht in kabel A kleiner.

Vraag 9 Nederlands:

Vul in d, t, dt, tt of dd. (4 punten)

De rellen in Urk gaven aan dat de situatie daar verandert.

Toen wij daar onderzoek naar verrichtten, ontdekten wij iets waar niemand aan gedacht had

Sommige mensen gaan ervan uit dat de overheid je van de wieg tot het graf verzorgt

Volgens die journalist weet vrijwel niemand wat die pensioenregeling inhoudt.

Vraag 10 geschiedenis:

Hieronder staan vier veranderingen in verschillende Nederlandse Grondwet:

- 1 de invoering van de ministeriële verantwoordelijkheid
- 2 de invoering van het budgetrecht
- 3 de invoering van het mannenkiesrecht
- 4 de invoering van sociale grondrechten

Welke twee veranderingen zijn in de Grondwet van 1848 opgenomen? (2 punt)

Antwoord 1 & 2.....

Vraag 11 geschiedenis:

In welk jaar kregen vrouwen stemrecht? (1 punt)

Antwoord 1919.....

Vraag 12 aardrijkskunde:

Welke vorm van vervuiling is te zien op onderstaande foto?
(1 punt)



Antwoord **Horizonvervuiling of visuele vervuiling of betonkust**

Vraag 13 aardrijkskunde:

Hoe heet de baai waar de mislukte invasie van Cuba in 1961 door Cubaanse ballingen, gesteund door de Amerikaanse CIA plaatsvond? (1 punt)

Antwoord **Varkensbaai (Bahia de Cochinos)**

Vraag 14 beeldende vorming:

Er bestaan erg kleurrijke schilderijen van dieren zoals het schilderij hiernaast. Teken hiernaast in dezelfde kleurrijke stijl een ander dier. (10 punten)



Vraag 15 muziek:

Hoeveel pedalen heeft een pedaalharp? (1 punt)

Antwoord **7 pedalen**

Vraag 16 muziek:

Wat is dit voor muziekinstrument? (2 punt)



Antwoord **Theremin**

Vraag 17 wiskunde:

De huisartsenpraktijk in Bodegraven heeft een centrale positie binnen de gezondheidszorg. Door corona zien we dat het aantal mensen dat langsgaat op het spreekuur is afgenomen, echter het aantal telefonische consulten is toegenomen. Deze contacten worden contactmomenten genoemd.

Uit data van het afgelopen jaar blijkt dat mannen gemiddeld 4,2 en vrouwen gemiddeld 4,8 contactmomenten met deze praktijk hebben gehad. Er zijn 4581 mannelijke patiënten ingeschreven in 2021 bij deze praktijk. Dit is 45% van het totale aantal patiënten. Wat is het totale aantal contactmomenten in 2021 voor deze praktijk? (2 punten)

Antwoord **46115 contactmomenten**

Vraag 18 Engels:

Vertaal een biljoen dollar naar het Engels. (2 punten)

Antwoord **A trillion dollars**

11. Bloemetjes en bijtjes

Vraag 1:

Hoe heten deze geliefde onkruidplantjes? (3 punten)



Antwoord Paardenbloem, Haagwinde en Melganzevoet

Vraag 2:

Waarom worden de bossen de longen van de aarde genoemd? (1 punt)

Antwoord Door via fotosynthese CO2 met water om te zetten naar zuurstof en suiker.

Vraag 3:


Welke insecten zijn dit? (4 punten)

A Sikkelsprinkhaan

B Boktor

C Langpootmug

D Landkaartje



Vraag 4:

Wie is deze bioloog? (1 punt)

Antwoord Freek Vonk



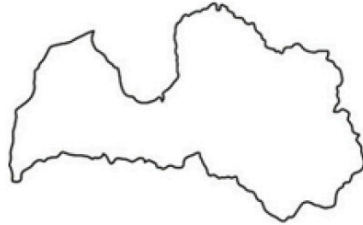
Vraag 5:

Welke Europese landen worden hieronder weergegeven? (4 punten)

A




B



C



D



A Oostenrijk

B Letland

C Portugal

D Hongarije

Vraag 6:

Er bestaan veel verschillende fobieën. Waar ben je bang voor met deze fobieën? (5 punten)

A. Arachnofobie Spinnen

B. Ofidiofobie Slangen

C. Bufonofobie Padden

D. Ichthyofobie Vissen

E. Selachofobie Haaien

Vraag 7:

Wie is deze bioloog? (1 punt)

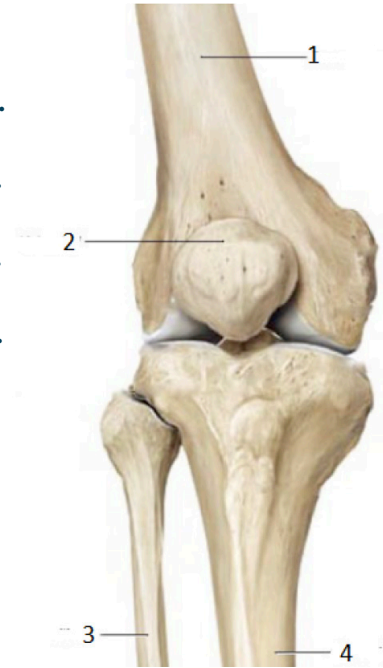


Antwoord David Frederick Attenborough

Vraag 8:

Hieronder zie je een knie. Benoem de botten met hun Latijnse namen. (4 punten)

- 1 **Femur**
- 2 **Patella**
- 3 **Fibula**
- 4 **Tibia**



Vraag 10:

Welke hoofdstad (van een ander Europees land) ligt het dichtst bij de Oostenrijkse grens? (1 punt)

Antwoord **Bratislava (Slowakije)**

Vraag 11:

In welk lichaamsdeel zitten nefronen? (1 punt)

Antwoord **Nieren**

Vraag 12:

Waar liggen de eilandjes van Langerhans? (1 punt)

Antwoord **Alvleesklier**

Vraag 13:

Terwijl wij door het coronavirus vooral aan huis gebonden waren, konden zij ronduit vliegen: de vogels in Nederland. Hieronder staan vier QR-codes. Kun jij raden welke vogel je hoort per fragment? (4 punten)



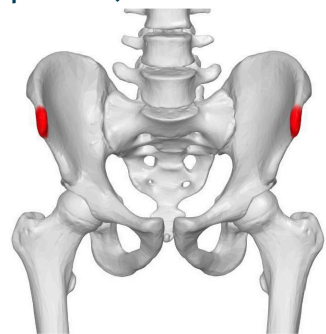
- A **Grutto**
- B **Scholekster**
- C **Kievit**
- D **Koolmees**

Vraag 9:

Hoe heten de punten aan de voorkant van de bekken in het rood aangegeven op onderstaande afbeelding? (2 punten)

Antwoord **Spina iliaca anterior superior**

.....



Vraag 14:

Wat voor diersoort is een dolfijn? (1 punt)

Antwoord Zoogdier

Vraag 15:

Waar kunnen honden heel ziek van worden? Let op meerdere antwoorden zijn goed. (2 punten)

A. Druiven

B. Chocolade

C. Avocado

D. Macadamianoten

Vraag 16:

Welk mannelijk dier heeft last van echte weeën? (1 punt)

Antwoord Zeepaard

Vraag 17:

Welke Nederlandse plaats begint met ABC? (1 punt)

Antwoord Abcoude

Einde van de Kwis.

Heb je nog tips, suggesties of een leuke boodschap voor de organisatie? Laat het ons weten:

.....

.....

.....

.....

.....

.....

.....

.....

.....

.....